

7.
SINIF

BECERİ TEMELLİ

SİSTEMATİK

PARAGRAF

SORU BANKASI

YENİ NESİL
SORULAR

SÖZEL MANTIK
VE MUHAKEME
SORULARI

GÖRSEL VE
GRAFİK OKUMA
SORULARI

PISA VE
MEB TARZI
SORULAR

SİSTEMATİK®
YAYINLARI

"Sistemantik çalışan kazanır."

1. İşlerinizde bir başarısızlık yaşadığınızda ya da büyük emeklerle kurduğunuz iş yeri iflas ettiğinde, sanki bütün dünya başınıza yıkılmış gibi hissedersiniz. Bu başarısızlık, daha önceki bütün başarılarınızı silmiş hissi verir size. Dipteyim sanırsınız ve bu yüzden zirveye tekrar çıkmak fazlasıyla zor ve yıpratıcı gibi gelir. Lakin başarısızlık yaşadığınızda dünyanın sonu gelmiş gibi davranmak pek de sağlıklı bir şey değildir. Unutmayın, herkesin iş hayatında ve özel hayatında, başarısız olduğu anlar olur. Diğer taraftan kendini başarılı olarak tanımlayan kişilerin ayırt edici özelliği, bu dönemleri kendi yararlarına çevirip, küllerinden yeniden doğmayı başarmış olmalarıdır.


Bu metne en uygun başlık aşağıdakilerden hangisidir?

- A) Yenilgiyi Asla Kabullenme
B) Yeniden Başlamak
C) Dipte Hissetmek
D) Zor Günler
2. İlk Süperman filmi, 1978 yılında çekildi ve o dönemde özel efekt olanaklarının ne kadar sınırlı olduğunu düşünürsek filmin hem görsel açıdan, hem de senaryo açısından başarılı olduğunu söyleyebiliriz. "Süperman" ilk defa ciddi anlamda bir süper kahramanı beyaz perdeye taşıyordu ve yarattığı etki ardından üç seri filmi getirdi. Bu ilk filmle dünyaca tanınan Christopher Reeve masum yüzüyle, hafif saf haliyle ancak aynı zamanda da gerektiğinde her tehlikeyi göze alan kararlı, cesur ve doğrucu tavrıyla Süperman/Clark Kent tezatını daha doğrusu birlikteliğini çok inandırıcı bir şekilde yansıttı ve bu rolle adeta özdeşleşti.



Bu metne en uygun başlık aşağıdakilerden hangisidir?

- A) Seri Filmler
B) Sinema
C) Filmler
D) İlk Süperman Filmi
3. Telefon 1876 yılında Graham Bell tarafından bulundu. İnsan sesini iletimini önce ülke içerisinde daha sonra da ülkeler arasında yayılmasına imkan verdi. Bu yenilik birçok kaygıyı da beraberinde getirdi. Evvela ABD'de benimsendi ve daha sonra ülkeler arasında yayılmaya başladı. 19. yüzyılda telefon kullanımı artmaya, insanlar arasındaki etkileşim gelişmeye başladı. Böylece insanlar arasındaki mesafe gittikçe kısalmaya ve insanların daha çabuk kaynaşmasına vesile oldu.



Bu metne en uygun başlık aşağıdakilerden hangisidir?

- A) Graham Bell
B) İletişim ve Mesafe
C) İletişimin Yaygınlaşması
D) Telefonun İcadı

Metnin Ana Fikri - Metnin Ana Duygusu - 1

1. Ah! Ne güzel oyunlarımız vardı çocukken. Yakan top, saklambaç, körebe, çelik çomak, birdirbir... Sanki tüm sokaklar, parklar, bahçeler bizimdi. Doyamazdık oyun oynamaya, bitmek bilmezdi oyunlarımız. Ama şimdi nerede o eski güzel zamanlar ve oyunlar? Arıyorum o günleri ama gelmezler ki bir daha geri.

Bu parçada yazarının hissettiği duygu aşağıdakilerden hangisidir?

- A) Nefret B) Kızgınlık C) Sevinç D) Özlem



2. İçinde bulunduğumuz çağda insanlar için öğrenme her geçen gün önemini daha da artırmaktadır. Öğrenilmesi gereken bilginin çokluğu, buna karşı öğrenmeye ayrılan zamanın azlığı işi daha da zorlaştırmaktadır. Bunu ancak hızlı ve akıllı davranarak aşabilir, insanlar.

Bu parçada vurgulanan ana düşünce aşağıdakilerden hangisidir?

- A) Bilgi, yaşadığımız çağın önemli özelliğidir.
B) Bilgiyi doğru ve akıllı yöntemlerle elde etmek gerekir.
C) Çağımızda, bilgi edinmek için gerekli çaba harcanmıyor.
D) Bilgi çağında yaşayanlar elindeki bilgilerle yetinmiyor.

3.

Anneleri, ülkemizdeki gece lambalarına benzetiyorum. Hani şu gece yanan, gündüz açık unutulduğu için yanmaya devam eden gece lambalarına. Gündüz başımızdan ayrılmayan annelerimiz gece üstü açılmış mıdır, terlemiş midir? diye etrafımızda pervane olurlar. Günün yirmi dört saati bize hizmet eden annelerimiz değil mi? Sizce de gece lambasına benzemiyorlar mı?



Yazar parçada annelerin özellikle hangi yönü üzerinde durmaktadır?

- A) Annelerin sorunları vardır.
B) Annelerin koruyucu, gözetici ve yardım edici özelliği vardır.
C) Annelerin yardıma ihtiyaçları vardır.
D) Annelerin sevgi ve saygıya gereksinimleri vardır.

Metindeki Yardımcı Fikirler - 1

1. Mutluluk sihirli bir kuş gibidir. Kanatlarında kâinatın sınırlarını taşıyan renkler ve desenler bulunur. Onun güzelliğini sıradan gözler baksa da göremez. Mutluluk kuşu kalplere konar ama ne yazık ki çoğu zaman insanlar onu fark etmezler. Gönüllerden dillere, dillerden gözlere uçar durur.

Bu parçadan aşağıdaki yargılardan hangisine ulaşamaz?

- A) Mutluluk fark edilmesi zor olan sihirli bir kuşa benzer.
B) Mutluluk herkes tarafından anlaşılabilir.
C) Mutluluk gönümüzden dilimize ve gözlere yansır.
D) Mutluluk hiç bir zaman anlaşılammıştır.

2. İnsanoğlunun dille bağlantısı kelimelerle gerçekleşir. Dil toplumsal bir unsurdur ama kelimeler bireyseldir. Duygularımızı, düşüncelerimizi tasarılarımızı kelimeler aracılığıyla aktarırız. Başka bir ifade ile söylersek kelimeler yaşamımıza yön verir. Kelimelere dökemediğimiz duygular aslında içimizdeki düşünceler aydınlığa çıkamamıştır.

Bu parçadan,

- I. Kelimeler yaşamımızda önemli bir yere sahiptir.
II. Duygularımızı, düşüncelerimizi kelimelerle dile getiririz.
III. Dil toplumun ortak malıdır; ancak kelimeler bireyseldir.

ifadelerinden hangilerine ulaşılabilir?

- A) Yalnız II. B) Yalnız III. C) I ve III. D) I, II ve III.

3. Benim şiirden anladığım sözcüklerin birleşmesinden doğan ritim, ahenk ve tonlama aracılığıyla gündelik dilde anlatılmasının olanağı bulunmayan iç hallerimizi, heyecanlarımızı anlatan ve böylece bizde estetik ilgisi dediğimiz ilgiyi kuran bir edebî yazı olmasıdır.

Bu parçada şiirle ilgili;

- I. Toplumla ilişkisine,
II. Gündelik dille anlatılamayanları dile getirdiğine,
III. İç dünyamızı dışa vurmada araç oluşuna

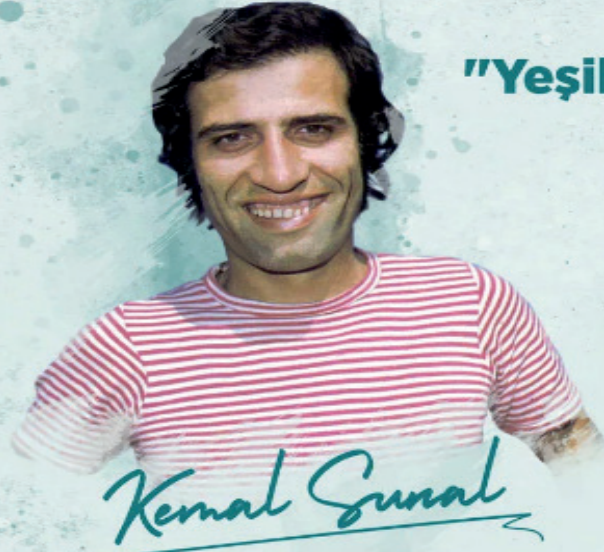
unsurlarından hangilerine değinilmemiştir?

- A) Yalnız I. B) Yalnız III. C) I ve III. D) I, II ve III.

4. Bir kişi değişiyor, dün dediğinden başka türlü diyorsa bugün ya da başka türlü düşünüyorsa önüne geçip başına mı kakmamız lazım bunu? Suç mu değişmek? Hata mı düşüncesini değiştirmek? Düşüncesini değiştirilebilir insan. Dün şuna inanmış, bugün bunun da bir doğruluğunu ya da güzelliğini anlamış olamaz mı? Neden söylemesin yeni düşüncesini? Dün dediklerinden dönmeyeyim diye artık inanmadığı şeyleri mi savunsun? Size bir şey söyleyeyim mi? Düşünmeyenler, kızar değişmeye ve değişene.

Bu parçada aşağıdakilerden hangisine değinilmemiştir?

- A) Değişim insanları korkutabilir.
B) İnsanın düşüncesi değişebilir.
C) Düşüncedeki değişim doğal karşılanmalıdır.
D) Değişen düşünce savunulur.



"Yeşilçam'ın güldüren yüzü: Kemal Sunal"

Oynadığı rollerde genellikle halk kahramanını canlandıran Sunal, filmlerde her zaman haklının haksıza karşı savunucusu, güçsüzün güçlüye karşı mücadelesini temsil eden kome-di ustası haline geldi.

Usta oyuncu, hayatı boyunca toplam 82 filmde rol aldı.

Rol aldığı yapımların bazıları

Canım Kardeşim, Oh Olsun, Mavi Boncuk, Salak Milyoner, Hanzo, Hababam Sınıfı Serisi, Şaban Serisi, Meraklı Köfteci, İbo ile Güllüşah, Sakar Şakir, Yüz Numaralı Adam, Süt Kardeşler, Tosun Paşa, Salako, Köyden İndim Şehire, Çöpçüler Kralı, Bekçiler Kralı, Zübük, Sahte Kabadayı, Avanak Abdi, Korkusuz Korkak, Şark Bülbülü, Devlet Kuşu, Got Kralı, Üç Kağıtçı, Doktor Civanım, Yedi Bela Hüsnü, Postacı, Varyemez, Propaganda

Bazı Ödülleri

"Kapıcılar Kralı", En İyi Erkek Oyuncu Ödülü
1977 Antalya Film Festivali
"Düttürürü Dünya" En İyi Erkek Oyuncu
1989 Ankara Film Festivali
"Yaşam Boyu Onur Ödülü"
1998 Antalya Film Festivali

1944

Tam adı Ali Kemal Sunal olan usta oyuncu, 11 Kasım'da İstanbul'da dünyaya geldi. İlk öğrenimini Mimar Sinan İlkokulunda, lise eğitimini ise Vefa Lisesinde 11 yılda tamamladı. Çocukluk yıllarında tiyatroya ilgi duyan Sunal, okulda çeşitli müsamereler düzenledi. Lisede amatör olarak ilk kez "Zoraki Tabip"le sahneye çıktı. Akşam gazetesinin düzenlediği liseler arası tiyatro yarışmasında "En İyi Karakter Oyuncusu" ödülünü aldı.

1966

Profesyonel tiyatro oyunculuğuna başladı. İlk kez Kenter Tiyatrosu'nda "Fadik Kız" adlı piyeste 3 farklı karakterle rol aldı. Şimdiki adı Marmara Üniversitesi İletişim Fakültesi olan Gazetecilik ve Halkla İlişkiler Yüksekokulundaki eğitimini yoğun tiyatro turneleri sebebiyle yarım bıraktı.

1973

Ertem Eğilmez'in yönettiği "Tatlı Dillim" filmiyle sinemaya adım attı.

1975

Gül Sunal ile evlendi. Ali ve Ezo adlarında iki çocuğu oldu.

1992 - 1995

1992'de çıkan öğrenci affı ile tekrar üniversitenin 2. sınıfından devam ederek, 51 yaşındayken 1995'te mezun oldu. Daha sonra Radyo, Televizyon ve Sinema dalında yüksek lisans yaptı ve "Televizyon ve Sinemada Kemal Sunal Güldürüsü" başlıklı bir tez hazırladı.

2000

"Balalayka" filmi çekimlerine başlamak için Trabzon'a gitmek üzere bindiği uçakta kalp krizi geçirerek, 3 Temmuz'da hayatını kaybetti.

4 – 5. soruları metne göre cevaplayınız.

4. Bu infografiğin konusu nedir?

- A) Kemal Sunal'ın çocukluğu
- B) Kemal Sunal'ın okul hayatı
- C) Kemal Sunal'ın ailesi
- D) Kemal Sunal'ın hayatı

5. Bu metinden;

- I. Kemal Sunal'ın rol aldığı bazı yapımlara,
 - II. Kemal Sunal'ın aldığı bazı ödüllere,
 - III. Kemal Sunal'ın hayatı boyunca kaç filmde rol aldığına
- bilgilerinden hangilerine ulaşılabilir?**

- A) Yalnız I.
- B) Yalnız III.
- C) I ve III.
- D) I, II ve III.

Hacı Bektaş Veli

Düşünceleri ve öğrentileri çağları aşarak nesilden nesle aktarılan Hacı Bektaş Veli, evrensel mesajlarıyla insanlığa ışık olmayı sürdürüyor.

UZUN FIRDEVSI'NİN VELAYETNAMESİ

- Hakkında bilinenler, Uzun Firdevsi tarafından Hacı Bektaş'ın ölümünden 200 yıl sonra yazılan Hacı Bektaş Velayetnamesi'ne dayanıyor.
- Horasan'ın Nişabur şehrinde doğduğu, İmam Musa Kazım'ın neslinden geldiği ve "İbrahim-i Sani" olarak tanınan Seyyid Muhammed'in oğlu olduğundan bahsediliyor.
- Bu veriler, Hacı Bektaş Veli'nin Anadolu'ya Moğol istilası sırasında göç ettiğini gösteriyor.
- Hacı Bektaş Veli'nin, bugünkü adı Hacıbektaş olan Suluca-karahöyük'e, kendine bağlı "Bektaşlı" oymağıyla geldiği belirtiliyor.

BİLİM VE ÖĞRETİ MERKEZİ KURDU

Orta Anadolu'yu dolaştıktan sonra bilim ve öğreti merkezi kurdu. "İnsan-ı kamil" olmanın, Hakk'a ulaşmanın, dört kapı kırk makamdan geçerek hakikate kavuşmanın yollarını öğretti. Hayatının büyük kısmını Suluca-karahöyük'te geçiren Hacı Bektaş, ömrünü de burada tamamladı. Hacı Bektaş Veli Türbesi Nevşehir'in Hacıbektaş ilçesinde bulunuyor.

ÖĞRETİLERİ, ANADOLU'DAN ÇIKIP FARKLI COĞRAFYALARA UZANDI

ANLAYIŞI ANADOLU, ARNAVUTLUK, YUNANİSTAN, BULGARİSTAN, MAKEDONYA, MACARİSTAN VE AZERBAYCAN

gibi birçok yerde toplumlarca benimsendi.

Alev-i Bektaşilerin piri, Anadolu erenlerinden Hacı Bektaş Veli'nin kimi kaynaklarda doğumu 1209, vefatı ise 1271 olarak yer alırken, bazı kaynaklarda doğumu 1242, Anadolu'ya gelişi 1270 - 1280, ölümü 1337 olarak bildiriliyor.

HACI BEKTAŞ VELİ'YE AIT OLDUĞU KABUL EDİLEN ESERLER

- "Besmele Şerhi"
- "Fatıha Suresi Tefsiri"
- "Makalat"
- "Kitabü'l-Feva'id"
- "Hacı Bektaş'ın Nasihatleri"
- "Makalat-ı Gaybiyye"

"İncinsen de incitme.", "Bir olalım, iri olalım, diri olalım.", "Ara bul.", "İlimden gidilmeyen yolun sonu karanlıktır.", "iyiyi ve kötüyü seçen akıldır."

1 ve 2. soruları metne göre cevaplayınız.

1. Bu metnin konusu aşağıdakilerden hangisidir?

- A) Hacı Bektaş Veli'nin eserlerinin özellikleri
- B) Hacı Bektaş Veli'nin hayatı
- C) Hacı Bektaş Veli'nin yaşadığı dönemin sosyal yapısı
- D) Hacı Bektaş Veli'yi etkileyen insanlar

2. Bu metinden Hacı Bektaş Veli ile ilgili;

- I. Bilim ve öğreti merkezi kurdu.
- II. Fikirleri Anadolu'nun dışındaki yerlere yayıldı.
- III. İnsanlara evrensel mesajlar verdi.

bilgilerinden hangilerine ulaşılabilir?

- A) Yalnız I.
- B) Yalnız III.
- C) I ve III.
- D) I, II ve III.

1.

Sanayi'den Önce ve Sonra



Bu başlık ve görselin yer aldığı metnin konusu aşağıdakilerden hangisi olur?

- A) Sanayi tesislerinin çevreye verdiği zararlar
- B) Sanayinin ekonomiye katkısı
- C) Sanayi tesislerinin özellikleri
- D) Sanayileşmenin tarihi gelişimi

2.

YENİLENEBİLİR ENERJİ



Bu başlık ve görselin yer aldığı metnin konusu aşağıdakilerden hangisi olabilir?

- A) Yenilenebilir enerji türleri
- B) Çevre sorunları
- C) Kuraklık ve etkileri
- D) Küresel ısınma ve buzulların erimesi

1. Hiçbir kuralın olmadığı bir hayatı düşünmek çok tuhaf geliyor. Kuralların olmadığı bir hayat; trafik işaretlerinin olmadığı şehre benzer. Nasıl ki trafik işaretleri yolda kaybolmayı önüyor veya gitmek istediğimiz yere en kolay ve güvenli gitmeyi sağlıyorsa kurallar da insanların toplu bir şekilde birbirinin haklarını çiğnemenin yaşamasını sağlıyor. Kuralların olmadığı hayatta insanların elindeki tek şey karmaşa olurdu. Açıkçası bunu da hiç kimse istemez. Bazen kuralların uygulanması bize yük gibi görünse de kuralsız bir yaşam mümkün olmazdı. Kuralsız bir hayatın kargaşadan başka bir şey olmadığı açıkça ortadadır.

Aşağıdakilerden hangisi bu metnin özetinde yer almayacak bir ifadedir?

- A) Kuralsız olan bir hayat düşünüldüğünde çok gariptir.
B) Kuralların olmadığı bir hayat trafik kurallarının olmadığı bir şehre benzer.
C) Kurallar olmasa da insanlar huzur içinde yaşar.
D) Kuralsız bir hayat kargaşa içinde olurdu.
2. Bilim insanları tarihte ilk kez kuantum dolanıklığına dair ilk gerçek fotoğrafı çektiler. Fizikçi Albert Einstein, bu olguyu çok bilinen ifadesiyle “uzaktan hayalet etkisi” diye nitelendirmişti. Elde edilen görüntü, İskoçya’da bulunan Glasgow Üniversitesinde görevli fizikçiler tarafından yakalandı ve o denli heyecan verici ki ona bakmadan duramıyoruz. Çok büyük bir şey gibi görünmeyebilir. Ama bir anlığına durup düşünün: Bu bulanık gri görüntü, kuantum mekaniğiyle ilgili tuhaf bilim alanını destekleyen ve kuantum hesaplamaların temelini oluşturan parçacık etkileşimini ilk kez gözler önüne serdi.

Bu metinde altı çizili sözcüğün yerine aşağıdakilerden hangisi getirilebilir?

- A) İçin B) Lakin C) Veya D) İle

3.

Amerikan Ulusal Havacılık ve Uzay Ajansı'nın (NASA) yanlışlıkla 217 dolara sattığı Ay'a ilk ayak basılan anın görüntüleri açık artırmaya çıktı. 1976'da yanlışlıkla kurumda çalışan bir stajyere satılan görüntüler 1 milyon 820 bin dolara satıldı. Sotheby's Müzayede Evi'nin sosyal medya hesabından yapılan paylaşımında, “Apollo 11'in Ay'a inişinin bugüne kadar kalan en iyi NASA videokaseti kayıtları New York'taki açık artırmada 1,8 milyon dolara satıldı.” ifadesi kullanıldı. Bugüne kadar korunan 3 orijinal kaset toplam 2,5 saatlik görüntüden oluşuyor.



Aşağıdakilerden hangisi bu metnin özetinde yer alabilir?

- A) Ay'ın görüntüleri müzede sergilendi.
B) Ay'ın görüntüleri renklendirilerek incelendi.
C) Ay'ın görüntüleri NASA tarafından yanlışlıkla satıldı.
D) Ay'ın görüntüleri ücretsiz olarak basına dağıtıldı.

1.

AYGÜN HABER

Plüton'un atmosferi, gezegenimizinkinden ve yakınıımızdaki diğer gezegenlerinkinden çok farklıysa, bilim insanlarının dış gezegen atmosferlerini daha fazla anlamasına katkıda bulunabilir. Fakat şimdilik bu, New Horizons'tan ve karmaşık bir bilgisayar modelinden elde edilen verilerle yapılan iyi bir tahmin. Plüton'un soğuk havasını açıklamaya çalışan başka teoriler de var. Bunların arasında, atmosferdeki soğuk havanın sorumlu olduğunu iddia edenler de var.

Yazarlar, 2019 yılında fırlatılacak olan James Webb Uzay Teleskobu ile bu fikirlerini test etme şansına sahip olacaklar. Bu gözlem aracı kızılötesi ışığı tespit edebiliyor. Güneş ışığını yayan puslu Plüton atmosferi, muhtemelen bu ışıkla parlıyor olacak. Araştırmacıların tek yapacağı şey beklemek ve parlak fikirlerinin teleskoptan gelen ışıkla teyit edilip edilmeyeceğini görmek olacaktır.



Bu medya metninden yola çıkarak

- I. Plüton'un soğuk havasını açıklamaya çalışan tek bir teori vardır.
- II. James Webb Uzay Teleskobu kızılötesi ışığı tespit edebiliyor.
- III. 2019 yılında fırlatılacak olan James Webb Uzay Teleskobu Plüton'un atmosferi ile ilgili bilgiler elde etmektedir.

çıkarımlarından hangileri yapılamaz?

- A) Yalnız I. B) Yalnız II. C) I ve III. D) I, II ve III.

2. Güney Afrika'da lise öğrencilerinin monte ettiği uçak, Afrika genelinde gençlerin girişimciliğe özendirilmesi amacıyla kurulan U Dream Global adlı vakfın desteklediği bir projedir. Proje kapsamında Güney Afrika merkezli Airplane Factory adlı şirketin ürettiği tek motorlu uçağın binlerce parçası, uçak mühendislerinin gözetiminde 20 öğrenci tarafından birleştirildi. Uçağın motor ve elektronik sistemleri mühendisler tarafından kuruldu. Güney Afrika'da lise öğrencilerinin 3 haftada monte ettiği bu uçak, ilk seferini başarıyla gerçekleştirdi. 6 haftada 12 bin kilometre kat ederek Mısır'a gitmesi planlanan Sling 4 tipi 4 kişilik uçak, ilk durağı komşu ülke Namibya'ya indi. Uçağı, öğrenciler kullanıyor. Uçak, pilotluk sertifikasını geçen yıl alan 17 yaşındaki Megan Werner adlı öğrenci tarafından kullanılıyor.

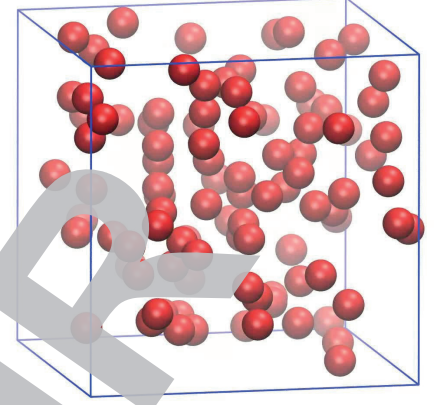
Bu medya metninden

- I. Güney Afrika'da öğrenciler üç haftada bir uçağı monte etmiştir.
- II. Öğrencilerinin monte ettiği Sling 4 tipi uçak, dört kişiliktir.
- III. Uçak, 17 yaşındaki Megan Werner adlı öğrenci tarafından kullanılmıştır.

bilgilerinden hangilerine ulaşılabilir?

- A) Yalnız I. B) Yalnız II. C) I ve III. D) I, II ve III.

1. Gaz maddeler, buldukları kabın yüzeyine ve içindeki nesnelere basınç uygulamaktadır. Gaz maddeler tanecikli yapıdadırlar. Bu maddelerin tanecikleri ne kadar fazlaysa oluşturduğu basınç da o kadar fazladır. Dünyamızı saran atmosfer tabakasında bulunan gazlar da bizim üzerimize basınç uygular ancak biz bunu hissetmeyiz. Açık hava basıncının değeri barometre ile ölçülür ve barometre en yüksek değerini (76 cm-Hg) deniz seviyesinde gösterir.



Bu metne göre aşağıdakilerden hangisi gaz maddelere ait bir özellik değildir?

- A) Buldukları kabın yüzeyine basınç uygular.
B) Buldukları kabın içindeki nesnelere basınç uygular.
C) Sıkıştırılmazlar.
D) Tanecikli yapıdadırlar.

2.

Australorp adı altında piyasada birçok tavuk, civciv ve horoz satışı yapıldığını görmekteyiz. Alışveriş yaparken daha dikkatli olup, verilen paramızın karşılığı güzel bir australorp cinsine sahip olabilmemiz için aldığımız tavuklarda şu özelliklere dikkat etmeniz de fayda vardır. Australorp, bir yılda 364 adet yumurta rekoruyla nam salmış tavuk türüdür. Hemen söyleyelim ki bu rakam normal şartlarda elde edilebilen bir rakam değildir. Yani siz bu tavuğa sahip olup güzel bir bakım yaptığınız da, yıllık ortalama 240-260 Aralıklarında yumurta verimi elde edebilirsiniz. 5 yıl boyunca en yüksek kapasitede yumurta yapabilir ve 7 yıl boyunca da yumurta veriminde düşüş olmaz. Bu özellikte diğer ırklardan bu türü ayıran çok önemli bir özelliktir. Australorp tavuğunun en önemli özelliklerinden birisi de 21 saat altında bir sürede yumurta yapan bir cinstir. Civcivlerinizi bahar aylarında elde ederseniz 5 aylık, kış mevsimlerinde ise 7 ay civarındayken yumurta elde edebilirsiniz. Yumurta rengi kahverengi tonludur.



Bu medya metnine göre Australorp adı verilen tavuk türü ile ilgili özelliklerden hangisi yanlıştır?

- A) Bir yaşından sonra yumurta vermeye başlarlar.
B) 21 saatte bir yumurta yapabilen bir cinstir.
C) 5 yıl boyunca en yüksek kapasitede yumurta yaparlar.
D) 7 yıl boyunca yıllık yumurta sayısında düşüş olmaz.

1. Sığırkuyruğu bitkisi güzeller güzeli bir bitkidir. Bu bitki, ülkemizde bazı yörelerde yün otu olarak da biliniyor. Boyu 60 ila 200 cm arasında değişen sığırkuyruğu otu, ince tüylerle kaplı dik gövdesi, sarı renkli çiçekleri ve kendine has görüntüsüyle hemen tanınabiliyor. Ana vatanının Avrupa olduğu söylenen bitki, ülkemizde en çok Marmara, Ege, Akdeniz bölgelerinde yetişiyor. Güneşi seven sığırkuyruğu, güneşin en yoğun olduğu dönemler diyebileceğimiz yaz ile sonbahar arasında çiçekleniyor. Tarlalarda kendiliğinden yetişme imkanı bulabilen sığırkuyruğu, çiçeklerinin hoş kokusuyla da bal arıları başta olmak üzere birçok canlı tarafından da çok sevilir.

Buna göre aşağıdakilerden hangisi paragrafta anlatılan bitkinin görselidir?



2.



Bu görselin vermek istediği mesaj aşağıdakilerden hangisi olabilir?

- A) Tarım arazilerinin yerleşim alanı olarak kullanılmaması gerekir.
B) Tarımda verimi artırmak için gübreleme yapılmalıdır.
C) Tarım arazilerine bina yaparak değerlendirmek gerekir.
D) Ekin ekmek en karlı iştir.

1.



Görselin vermeye çalıştığı mesaj aşağıdakilerden hangisidir?

- A) Teknoloji, bizlere zamandan kazanmamızı sağlar.
- B) Teknolojinin faydaları, zararlarından daha fazladır.
- C) Çocuklarımızı, teknoloji bağımlılığından kitap okuma alışkanlığı kazandırarak koruyabiliriz.
- D) Teknoloji bağımlılığı, çocuklarda diğer faaliyetleri yapmayı engelleyebilir.

2. Kırkyama, sadece Türkiye’de değil dünyanın birçok ülkesinde ve Orta Asya’da Türk halklarında yaygın bir kumaş dikiş tekniğidir. Kırkyama, kare, üçgen vb. geometrik biçimlerde kesilmiş, çeşitli renk ve desende ki kumaş parçalarının belirli bir düzene göre yan yana getirilip, dikilmesiyle oluşturulan eski bir halk sanatı ürünüdür. Türk kültürünün geleneksel el sanatı olan kırkyama kumaş parçalarını değerlendirmek ve ihtiyaçlarını gidermek amacıyla büyükannelerimizin elinde gelişen bir sanat olmuştur.

Buna göre aşağıdakilerden hangisi paragrafta anlatılan geleneksel el sanatına örnektir?

A)



B)



C)



D)



Hikâye Unsurları – Duyular – Karakter - 1

1. İlk uçurtma, günümüzden 2000 yıl önce Çin'de ortaya çıkmıştır. Bir hikâyeye göre Çinli bir adam rüzgarlı havada şapkasının uçmasını önlemek için şapkasını iple bağlamıştır. Böylece ilk uçurtmayı yapmıştır. Daha sonra uçurtma Çin'den Kore ve Hindistan'a giden tüccarlar aracılığıyla Asya'nın birçok yerine yayılmıştır. Japonya'ya ise Budist rahipler tarafından getirilmiştir.

Bu paragrafa göre uçurtma ilk nerede ortaya çıkmıştır?

- A) Japonya'da B) Çin'de C) Kore'de D) Hindistan'da

2. Batuhan'ın aceleciliği yoktu. Bir olay oldu mu sonuna bakardı. "Önceden verilmiş cevap, acele olduğu için iyi sonuç vermez." derdi. O bu konuda "Yeni demlenen çayın ham olduğu için iyi tat vermeyeceği, biraz bekleyince yani demlenince tadına varılması gibi herhangi bir olay da hemen tepki vermek sağlıklı olmaz." ifadelerini kullanırdı. Onun için olay sonuçlandıktan sonra biraz bekleyip olayın tam anlamıyla ortaya çıkması yani demlenmesi gerekirdi. Asıl o zaman sağlıklı ve doğru karar alınabileceğine inanırdı.

Yukarıdaki metinde bahsedilen Batuhan için aşağıdakilerden hangisi söylenebilir?

- A) Sabırsız B) Temkinli C) Hoşgörülü D) Karamsar

3.



Hereke'nin dışında dünyada yeşil ile mavinin uyumunu daha iyi görebileceğiniz başka bir yer bulmanıza imkan yok. Denizin maviliği bittiği yerde başlayan yeşillikle inanılmaz bir uyum oluşturmuş. Denizin kokusu, rüzgarın esintisiyle birleşip insanın teninde inanılmaz bir esenlik, serinlik oluşturuyor. Boşuna buraya "cennetin dünyadaki parçası" diye söylenilmemiş. Burada kuşların cıvıltısı, arıların vızıltısı insana müthiş bir huzur veriyor.

Bu metinde aşağıdaki duyu organlarının hangisinden faydalanılmamıştır?

- A) Görme B) Tatma C) İşitme D) Dokunma

1. (I) Cumartesi günü de aslında ilk bakışta benim için diğer günler gibi sıradandı. (II) Kahvaltımı yaptıktan sonra bahçeye gitmek için hazırlık yaptım. (III) Bir kürek, bir kazma ve dikilecek olan gül fidanları için bol bol can suyu vermek için bir bakır kova hazırladım. (IV) Kardeşim Doğukan ile hazırladığımız yirmi beş ocaklık gül fidanlarını dikmenin zevkini başka hiçbir yerde bulamazdım.

Bu paragrafta numaralanmış cümlelerin hangisinde hikayenin temel unsurlarından zamana yer verilmiştir?

- A) I. B) II. C) III. D) IV.



2. Minik saka kuşu gökyüzünde neşe içinde kanat çırparak uçuyordu. Sonsuz maviliğin içinde eğlenerek vakit geçiriyordu. Keyfine diyecek yoktu. Diğer kardeşlerinin sesini duydu. O da onların seslerine karşılık verdi. Neşe içinde ötüyordu. Birden acıktığını anladı. Ahmet Bey'in bahçesindeki kara dut ağacı ilişti gözüne. Yukarıdan aşağı hafifçe süzülerek dut ağacının altına indi. Ağaçtan düşen tatlı kara dutlardan bir iki tane yedi.

Bu parçada hangi duyudan yararlanılmamıştır?

- A) Görme B) Duyuma C) Dokunma D) Tatma



3. (I) Duygu Hanım, camın kenarında oturmuş okula giden çocukları, karşı kaldırımında dolaşan köpekleri ve çimenlerin üzerindeki güvercinleri seyrediyordu. (II) Dışarıda gördükleri bir ressamın arayıp da bulamadığı manzarayı sunuyordu hem de tüm yalnlığıyla (III) Bu manzarayı seyre dalmışken kapının gıcırta ile açıldığını gördü. (IV) İçeriye evin sevimli ve bir o kadar da yaramaz kedisi Bulut girdi, hemen masanın altındaki minderine yattı.

Bu paragrafta numaralanmış cümlelerin hangisinde duyma duyusundan faydalanılmıştır?

- A) I. B) II. C) III. D) IV.

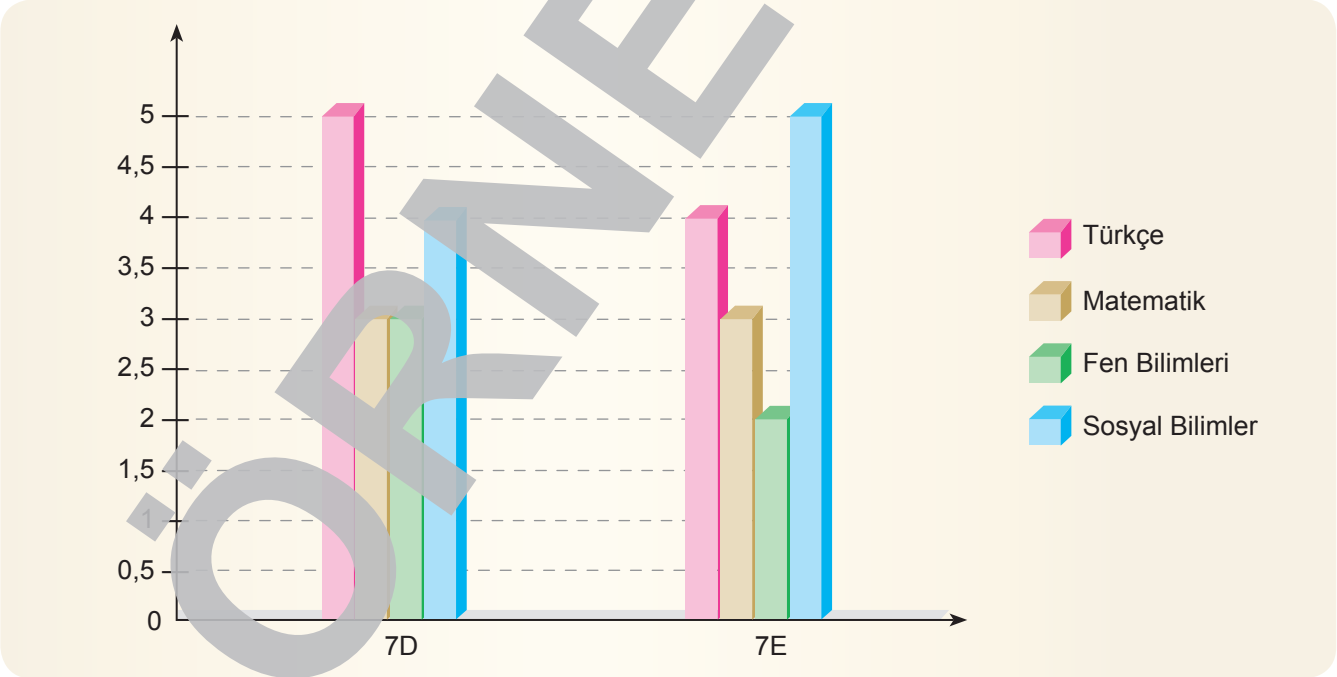


1. Dođukan'ın ailesi, Dođukan'ın ders çalışma sürelerini hafta içi günlerine göre gösteren bir tablo hazırlamasını istedi. Dođukan, bir çalışma yaparak aşağıdaki tabloyu hazırladı. Tabloda 5 gün içinde çalıştığı derslerin sürelerini gösterdi.

Günler	Matematik	Türkçe	Fen Bilimleri
Pazartesi	2	2	1
Salı	1	2	2
Çarşamba	4	1	0
Perşembe	2	3	1
Cuma	3	0	1

Dođukan'ın ailesi bu tabloyu incelediğinde derslere göre çalışma süreleri ile ilgili ulaştığı sonuçlardan hangisi doğrudur?

- A) Dođukan, pazartesi günü, matematiğe ve Türkçeye aynı oranda zaman ayırmıştır.
B) Dođukan'ın Türkçe ile fen bilimleri dersine çalıştığı süre eşittir.
C) Dođukan, perşembe günü, çarşambaya göre daha az süre ders çalışmıştır.
D) Dođukan, salı günü her derse eşit oranda zaman ayırarak çalışmıştır.
2. Aygün Ortaokulunda 7D sınıfı ile 7E sınıfının gelişimlerinin incelenmesi amacıyla dört ders alanına yönelik not ortalamalarını gösteren bilgilerden hareketle aşağıdaki grafik düzenlenmiştir.



Bu grafikte yer alan verileri değerlendirerek 7D ve 7E sınıflarıyla ilgili hangisi söylenebilir?

- A) 7E sınıfı sosyal bilgiler dersinde 7D sınıfından daha başarılıdır.
B) 7D sınıfı sosyal bilgiler ve Türkçe derslerinde aynı düzeyde başarılıdır.
C) 7E sınıfı matematik dersinde daha başarılıdır.
D) 7D sınıfının en başarılı olduğu ders sosyal bilgilerdir.

1.



(I) İzmit, Doğu Roma Dönemi'nin önemli şehirlerinden biridir. (II) Cumhuriyet Parkı'ndan kalkıp Çenesuyu'na gelen minibüs yarım saat kadar sarstıktan sonra, gideceğim köye ayrılan yolun başında beni bıraktı. (III) Yorgunluktan iki adım bile atacak hâlim kalmamıştı (IV) Dinlenmek için kenarlarından otlar fırlayan bir taşın üstüne oturdum.

Numaralı cümlelerden hangisi paragraftaki konu bütünlüğünü bozmaktadır?

- A) I. B) II. C) III. D) IV.

2. (I) Önceleri "cümle" diyorduk, sonra "tümce" demeye başladık. (II) Paragrafa, metin ve parça da deniliyor. (III) Cümle, dilimize çok uzun yıllar hatta yüzyıllar önce girmiş bir sözcük. (IV) Cümlenin "bütün, hep, top" gibi anlamları da var, biz ise cümleyi çoğunlukla "bir yargı bildirmek için tek başına çekimli bir fiil veya çekimli bir fiille kullanılan kelimeler dizisi" anlamında kullanıyoruz.

Numaralı cümlelerden hangisi paragraftaki konu bütünlüğünü bozmaktadır?

- A) I. B) II. C) III. D) IV.

3. (I) Okumada ve okuduğumuzu anlamada en önemli organlarımız gözlerimiz ve beynimizdir. Beynimiz çok hızlı çalışır, ama göz ona nazaran daha yavaş bilgi gönderir. Beyinle göz arasındaki bu kapasite farklılığı okuma esnasında dikkatin çok sık ve kolay dağılmasına yol açar. (II) Bu nedenle hızlı okuma tekniklerinde ulaşılmak istenen temel hedef gözün okuma hızını, beynin anlama hızına yaklaştırarak dikkat ve konsantrasyonumuzu arttırmaktır. (III) Yapılan araştırmalara göre bilginin en az yüzde 80 – 85'ni okuyarak kazanıyoruz. Bu durumda çok okumanın yollarını araştırmamız gerekiyor. (IV) Bu da hızlı okuma tekniklerinin ortaya çıkmasıyla çözülmeye başlamıştır. Amerika ve İngiltere'de üniversiteye kadar, her öğretim kademesine hızlı ve etkili okuma ile ilgili uygun eğitimler verilmektedir.

Bu paragraf iki paragrafa ayrılmak istense numara ile belirtilen yerlerin hangisinden ayırmak gerekir?

- A) I. B) II. C) III. D) IV.