

4.  
SINIF

BECERİ TEMELLİ

SİSTEMATİK

PARAGRAF

SORU BANKASI

YENİ NESİL  
SORULAR

SÖZEL MANTIK  
VE MUHAKEME  
SORULARI

GÖRSEL VE  
GRAFİK OKUMA  
SORULARI

PISA VE  
MEB TARZI  
SORULAR

SİSTEMATİK®  
YAYINLARI

"Sistematik çalışan kazanır."

Veysel AYGÜN

## Metnin Başlığı - 1

1.



Canlılar beslenme, barınma, üreme, boşaltım gibi yaşamsal faaliyetlerini sürdürebilmek için uygun bir alanda yaşamak isterler. Bu yaşam alanı canlının çeşidine göre farklılık gösterir. Örneğin: Solucanın yaşadığı alan ile balığın yaşadığı alan aynı değildir.

Bu metne getirilebilecek en uygun başlık hangisidir?

- A) Canlıların Yaşam Alanları
- B) Canlı Türleri
- C) Canlılarda Beslenme
- D) İnsanların Canlılara Verdiği Zarar

2. Ülkemizin her bölgesinde tarihi evlere rastlamak mümkündür. Bu evlerin farklı ve benzer özellikleri vardır. Eskiden evin kapısı avluya açılırdı. Avluda kuyu, çiçekler, ağaçlar ve sebzeler bulunurdu. Evlerin zemin katları genel olarak taştan yapılırdı. Üst katlarda ise ahşap, kerpiç, taş ya da tuğla kullanılırdı. Evlerin alt katında ise genellikle kiler, depo, samanlık, mutfak gibi bölümler bulunurken üst katta oturmak ve yatmak için odalar bulunurdu. Misafirlerin ağırlandığı ve ailenin oturduğu bölümlere hayat adı verilirdi.



Aşağıdakilerden hangisi bu metin için en uygun başlıktır?

- A) Mimarının Gelişimi
- B) Tarihi Evler
- C) Evde Yaşamak
- D) Aile Hayatı

1. İnsanların ve diğer canlıların yaşadıkları, birbirleriyle etkileşim hâlinde oldukları ortama çevre adı verilir. Bir çevreyi oluşturan canlı varlıklar; bitkiler, hayvanlar, mantarlar ve mikroskopik canlılardır.

Bu metne getirilebilecek en uygun başlık hangisidir?

- A) Çevre ve Canlı Varlıklar
- B) Çevre Kirliliği
- C) Çevreyi Korumanın Önemi
- D) Çevre Temizliği

2. Eğer konuşma yaparken başarılı olmak isterseniz, her şeyden önce içtenlikli olun. Konuşmanızda karşınızdakinin isteklerine de yer verin. Hep siz konuşmayın. Kullandığınız kelimelere ve sesinize özen gösterin. Hem başkalarının konuşmalarını, hem de kendi konuşmalarınızı inceleyin.

Bu metne getirilebilecek en uygun başlık hangisidir?



- A) Etkili dinlemek
- B) Çok Konuşmak
- C) Dinlemek
- D) Başarılı Konuşmak

3. Vera başını kaldırıp uçağın parıl parıl parlayan gümüş renkli karnının açıldığını görüyor. Yangın bombaları düşüyor. Bombanın biri durduğu yerden en fazla 5 metre uzağa düşerken Vera dehşete kapılmış izliyor. Bombanın çıkardığı sesi duyarak kaçıyor.

Bu metne getirilebilecek en uygun başlık hangisidir?

- A) Yangın Bombaları ve Vera
- B) Barışın İçin Mücadele
- C) Savaştan Korunma Yolları
- D) Vera'nın Uçağa Binmesi



## Metnin Başlığı - 3

1.



Vatanımızın işgalden kurtuluş süreci Mustafa Kemal'in Samsun'da çıkışı ile başlamıştır. Diğer bir ifadeyle söylemek gerekirse mücadele meşalesi ilk Samsun'da yakılmıştır. Bu önemli günün tarihi ise 19 Mayıs 1919'dur. Samsun'dan başlayan mücadele bütün Anadolu'ya ve Trakya'ya yayılmıştır.

Bu metne getirilebilecek en uygun başlık hangisidir?

- A) Atatürk Erzurum'da
- B) İstanbul'un İşgali
- C) Atatürk'ün Hayatı
- D) Vatanımızın Kurtuluşu

2.

Kortarla'da yağmur, o kadar güzel yağıyordu ki sanki tabiatın kirini pasını usul usul siliyordu. Her ilkbahar böyle ince ince yağan yağmur buraya ayrı bir güzellik ve huzur katıyordu. Tabiatın canlanıp kendini yenilediği zamandır ilkbahar mevsimi. Yemyeşil yapraklarıyla güller, kış mevsiminden ilkbahara geçiş yaparlar. Bu ilkbahar güzelliğini çiseleyen yağmur tamamlardı. Her yer bir ilkbahar tazeliğinde, ne güzeldi.



Aşağıdakilerden hangisi bu metin için en uygun başlıktır?

- A) İlkbaharda Yağmur
- B) Yağmurun Oluşumu
- C) Güllerin Yaprakları
- D) Çiçekler ve Ağaçlar

**Metnin Ana Fikri - Metnin Ana Duygusu -3**

1. Evimizde, trafikte ve sınıfta uymamız gereken bazı yazılı ve yazısız kurallar vardır. Kurallar yaşadığımız yerde düzenin sağlanmasında etkili olur. Eğer kurallar yoksa ya da var olan kurallara uyulmuyorsa düzen bozulur, kargaşa yaşanır.

**Bu metnin ana fikri nedir?**

- A) Düzenin sağlanması için kurallara uymak gerekir.  
B) Kurallar olmasa da insanlar düzen sağlayabilirler.  
C) Sadece yazılı olan kurallara uymak gerekir.  
D) Kurallara uyulmadığında ceza verilir.

2.



İster küçük isterse büyük olsun, bugün herkes dünden daha çok okumak zorundadır. Çocukken bir yüksek okul başarısı elde etmek, yetişkinlikte de iyi bir iş sahibi olmak ve bu işte yükselebilmek çok okumayı gerekli kılmaktadır.

**Bu paragrafın ana düşüncesi aşağıdakilerden hangisidir?**

- A) En çok okuması gerekenler çocuklardır.  
B) Herkes başarılı olmak için okumalıdır.  
C) İş sahibi olmak çok zordur.  
D) İnsanlar boş zamanlarında okumalıdır.

3. Gelin canlar bir olalım,  
İşi kolay tutalım.

Sevelim, sevilelim

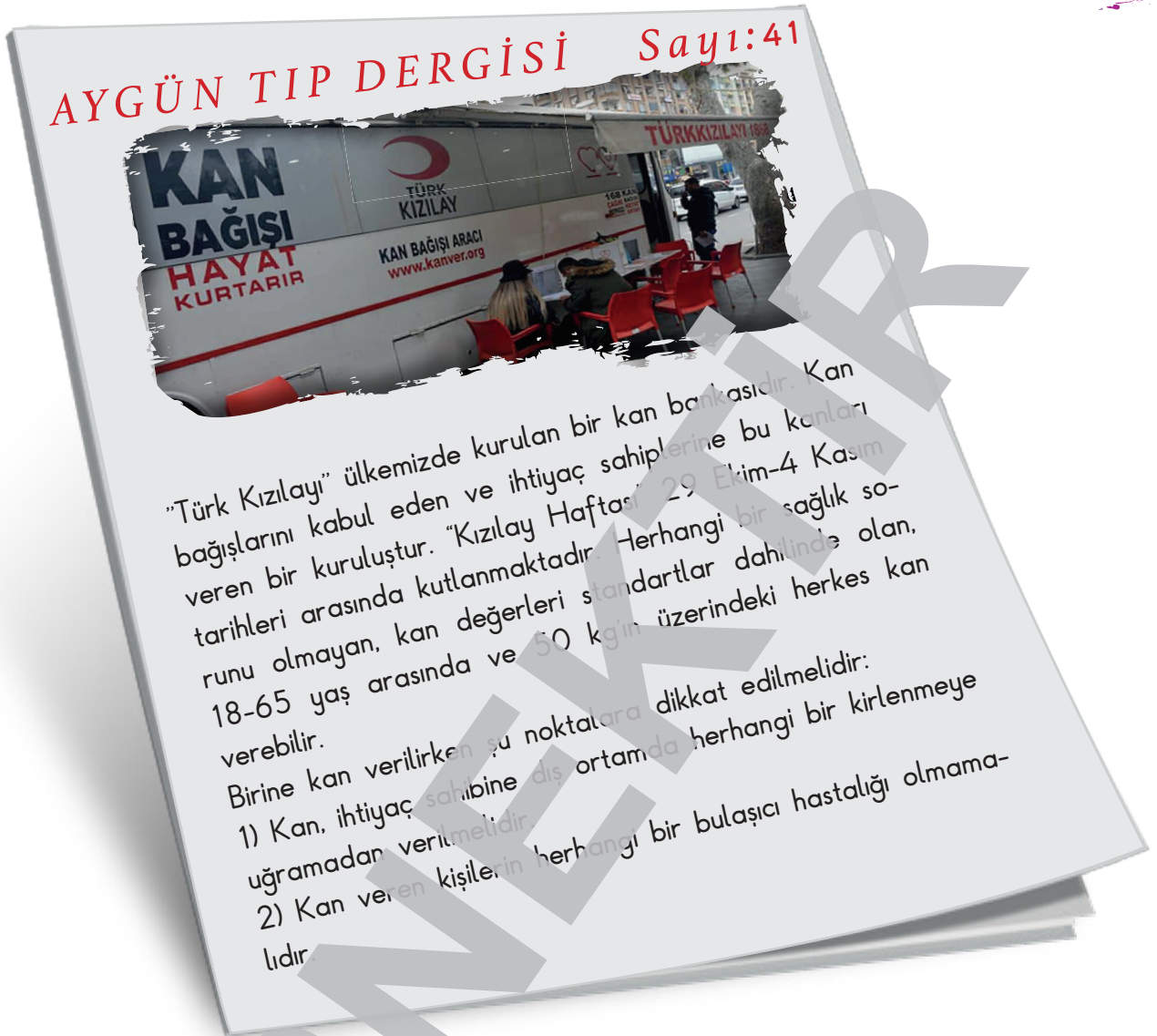
Bu dünya kimseye kalmaz.

Yunus Emre

**Bu şiirin ana duygusu nedir?**

- A) Doğa sevgisi      B) Millet sevgisi      C) Yurt özlemi      D) İnsan sevgi

1.



Bu dergi metninden,


- I. Herkes kan verebilir.
- II. Kan verecek kişilerde bazı özellikler aranmaktadır.
- III. Kızılay kan bağışısı kabul eden bir kuruluştur.

bilgilerinden hangilerine ulaşamaz?

- A) Yalnız I.
- B) Yalnız II.
- C) I ve III.
- D) II ve III.

## 5N1K Soruları - Paragrafta Soru Cevap-1

1.



Deniz kaplumbağaları yaşamlarının büyük bir bölümünü kıtalararası denizlerde sürdürür. Erkek kaplumbağalar deniz dışına hiç çıkmaz, dişiler ise sadece yumurta bırakmak için kumsallara çıkar. Erkek ve dişi deniz kaplumbağaları üreme döneminde, beslenme alanlarından ayrılarak, yavrulama bölgelerine yakın yerlere gelirler.

Bu metne göre, deniz kaplumbağalarının yaşamları boyunca en çok buldukları yer neresidir?

- A) Sahiller  
B) Kumsallar  
C) Kıtalararası denizler  
D) Okyanus dipleri

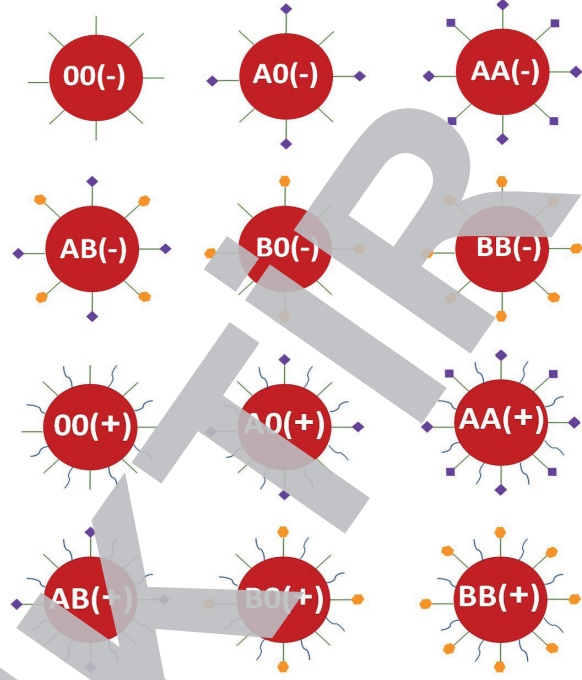
2. Kış geliyor. Sıcak yaz aylarını geçirmek için deniz kenarlarına, kırlara, tepelere gidenler şimdi birer birer evlerine dönüyor. Bunlar gökyüzü ve deniz maviliği, kır, dağ içinde geçen yazlarından çok memnun olurlar. Güneşte uzun süre pişen meyveler, ekim ve kasım aylarına doğru tatlı renklerde kokulanır, ballanır.

Bu metne göre aşağıdakilerden hangisi yazlıkçıların tatil için gittiği yerler arasında gösterilmemiştir?

- A) Kırlar  
B) Tepeler  
C) Köyler  
D) Deniz kenarları

1.

"A, B, AB ve O" olmak üzere dört çeşit kan grubu bulunur. Kan grubu çeşidini alyuvarlarda yer alan protein özellikteki yapılar belirler. İhtiyaç halinde insanlar arasında kan alışverişi mümkündür. Kan alışverişi aynı kan grupları arasında yapılır. Kan alışverişi için alyuvarlarda bulunan Rh faktörüne de dikkat edilir. Alyuvarlarında Rh faktörü bulunuyorsa kan, Rh (+); Rh faktörü bulunmuyorsa kan, Rh (-) olarak adlandırılır.



Bu metinde aşağıdaki sorulardan hangisinin cevabı yoktur?

- A) Kan grupları nelerdir?
- B) Kan grubu çeşidini belirleyen şey nedir?
- C) Kan neye göre Rh (+) ya da Rh (-) olarak adlandırılır?
- D) Kan uyumsuzluğu hangi durumlarda ortaya çıkar?

2. Bir gezegenin çevresinde, belirli bir yörüngede dolanan gök cisimlerine uydu denir. Bir uydu, etrafında dolandığı gezegenden daha küçük boyuttadır fakat diğer gezegenlerden büyük olabilir. Örneğin Jüpiterin uydularından biri olan Ganimet, Merkür gezegeninden daha büyüktür. Dünya'nın uydusu Ay, gökyüzünde rahatlıkla görülmektedir. Mars, Jüpiter, Satürn, Uranüs ve Neptün uydusu olan diğer gezegenlerdir. Merkür ve Venüs gezegenlerinin ise uyduları yoktur.

Bu metne en uygun başlık aşağıdakilerden hangisidir?

- A) Gezegenler ve Uydular
- B) Gezegenlerin Büyüklükleri
- C) Uyduların Görevleri
- D) Uydusu Olmayan Gezegenler



1. Yapılan her iyi davranışta verilen ödülün öğrenciye faydalı olacağını düşünüyorsunuz, sanırsam. Halbuki bu ödülün hiçbir faydası yoktur. Hatta verilen ödülün zararı vardır desem bana hemen karşı çıkarsınız. Ama ben size ödülün neden zararlı olduğunu anlatmak istiyorum. Bir öğrenciye iyi davranışlarından veya başarısından dolayı hep ödül verirsiniz artık o öğrenci hedefleri için değil, ödül almak için mücadele eder. Tek düşüncesi ödül almak olur. Bu durumda ödül için çalıştığı ve öğrendiği için ödülünü alınca öğrendiklerini tekrar unutar. Oysaki ödül için değil kendisi ve çevresindekiler için yararlı olacağını düşündüğü için öğrenirse öğrendiklerini unutmaz ve öğrendiği bilgiler kalıcı olur.

**Bu metinde asıl anlatılmak istenen aşağıdakilerden hangisidir?**

- A) Öğrencilere yaşlarına uygun ödüller verilmelidir.  
B) Öğrencilere değeri yüksek olan ödüller verilmelidir.  
C) Ödüller, öğrencilerin bilgileri kalıcı bir şekilde öğrenmelerine engeldir.  
D) Ödüllerin gerçek başarıya ulaşmadaki etkisi çok fazladır.

2.



Altı yaşındaki Sander, bir gün, balta girmemiş ormanları anlatmak için yazılmış olan "Yaşanmış Öyküler" adlı bir kitapta müthiş bir resim görmüştü. Bu resim bir hayvanı yutmaya çalışan bir boa yılanını gösteriyordu. Kitapta şöyle diyordu: "Boa yılanları avlarını çiğnmeden olduğu gibi yutuverirler. Sonra da yerlerinden kımlıdayamaz, sindirimleri için gerekli altı ayı uyumakla geçirirler." Sander, bundan çok etkilendi ve orman serüvenleri üzerine derin düşünmeye başladı.

**Bu parçadan Sanderle ilgili,**

- I. Bir kitapta gördüğü resmin etkisinde kalmıştır.  
II. Hayvanlara karşı sevgi beslemektedir.  
III. Çok fazla kitap okumaktadır.

**ifadelerinden hangileri söylenebilir?**

- A) Yalnız I.                      B) Yalnız II.                      C) I ve III.                      D) I, II ve III.

1. Keten Kuşu, ülkemizde uygun ortam bulunduğu her yerde yaşayan yerli kuş türlerinden biridir. Keten kuşlarının tüyleri genel olarak kahverengidir. Göğüs kısımları ise parlak kıızıdır. Keten kuşları, kısa gagalı, uzun kuyruklu ve 13 cm uzunluğunda boyları olan kuşlardır. Kış aylarında diğer kuş süreleri ile birlikte görülen keten kuşları, ötücü bir kuş türüdür. Bu kuşlar yavru çıkarma dönemlerinde 4-7 yumurta yaparlar. Yumurtalarında ufak noktacıklar ve benekler bulunur.

1



2



3



4



Buna göre metinde bahsedilen kuşun görseli kaç numaralı bölümde verilmiştir?

A) 1

B) 2

C) 3

D) 4

1.



Bu görsele bakarak

- I. Tarım arazilerine binalar yapılmıştır.
- II. Bina yapımı, tarım arazilerini azaltmıştır.
- III. Gübre kullanmak tarım ürünlerinin verimini artırmıştır.

İfadelerinden hangilerine ulaşamayız?

- A) Yalnız I.
- B) Yalnız III.
- C) I ve II.
- D) I ve III.

2.

DOSTLARIMIZ



Bu başlığın ve görselin yer aldığı bir metnin ana konusu aşağıdakilerden hangisi olabilir?

- A) Hayvancılık faaliyetlerinin ekonomiye katkıları
- B) İnsanların hayvanları beslemeleri
- C) Hayvanların çocuklara yardımcı olmaları
- D) Çocukların hayvanlarla arkadaşlıkları

1. Ankylosaurus'un anlamı, "sert zırlı kertenkele"dir. Bu dinazor türünün günümüzden 70 milyon yıl önce yaşadığı düşünülmektedir. Otobur olarak beslenmiş olan bu tür, 7-10 metre boyunda ve 4-7 ton ağırlığında olan bir hayvandır. Dört bacağına üzerinde yürümüş olan ve ön bacaklarının arka bacaklarından kısa olduğu bilinen bir dinazor türüdür. Bu türün sırt kısmının diken görünümlü kemik ve plakalar ile kaplı olduğu bilinmektedir. Ankylosaurus'un başının arka kısmından kuyruk kısmına kadar dikenler olduğu bilinmektedir.

1



2



3



4



Buna göre metinde bahsedilen dinazorun görseli kaç numaralı bölümde verilmiştir?

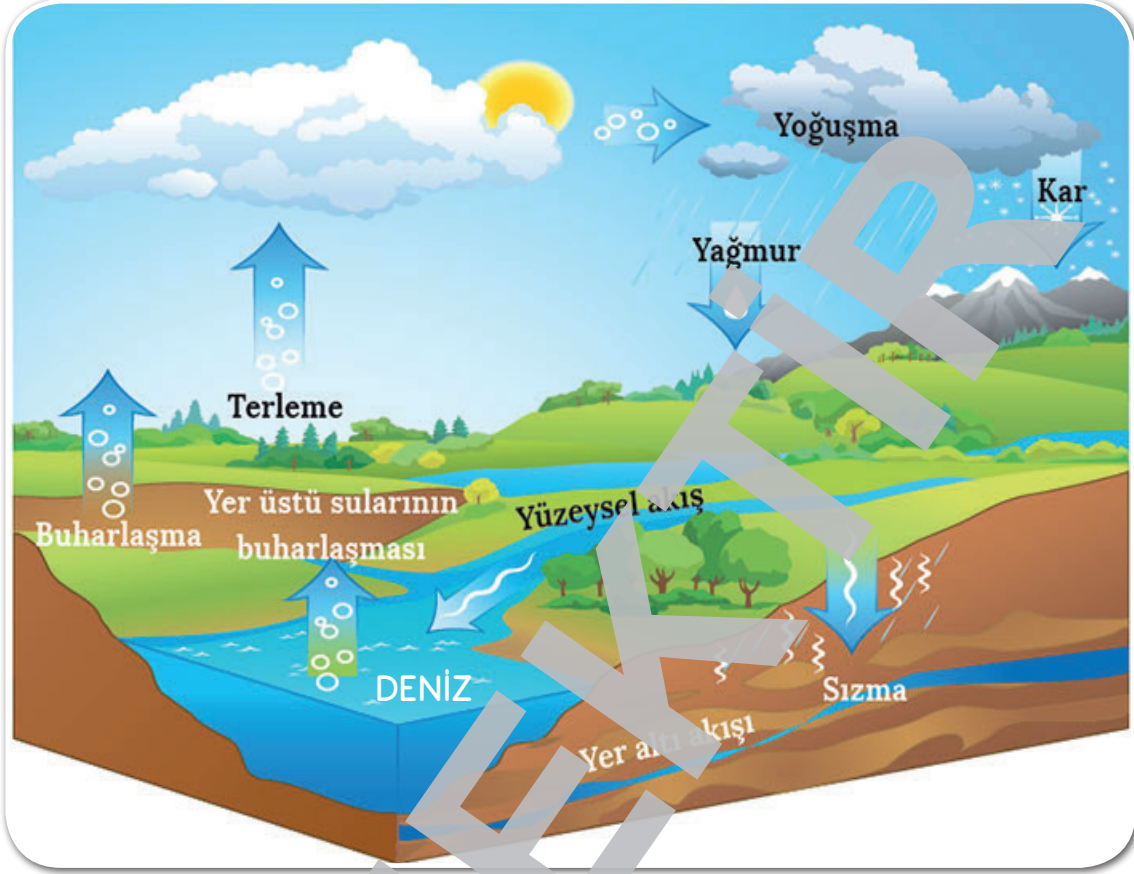
A) 1

B) 2

C) 3

D) 4

1. Aşağıdaki görselde yeryüzündeki yağışların oluşumu ve su döngüsü anlatılmaktadır.



Bu görselden yola çıkarak;

- I. Yağışların oluşmasında hangi doğa unsurlarının etkili kullanıldığı,
- II. Dünya üzerindeki yağışlı bölgelerin nereder olduğu,
- III. Deniz suyunu besleyen öğelerin ne olduğu unsurlarından hangilerine ulaşamaz?

- A) Yalnız I.      B) Yalnız II.      C) I ve II.      D) I ve III.

2. Yandaki görselin asıl vermek istediği mesaj aşağıdakilerden hangisidir?

- A) Çağımız, teknolojik alanda geri kalmıştır.
- B) Teknoloji her geçen gün daha çok hayatımızı zorlaştırıyor.
- C) Teknoloji insanları daha çok bağımlı hale getirdi.
- D) İnsanlar teknolojiyi doğru kullanmaktadırlar.



1.

## DEPREM ÖNCESİNDE ALINACAK ÖNLEMLER



- Yerleşim bölgeleri titizlikle belirlenmelidir. Kaygan ve ovalık bölgeler iskana açılmamalı, gevşek toprağa sahip meyilli yerlere ev yapılmamalıdır.
- Yapının deprem güvenliğine dikkat edilmelidir. Yapı tekniğine ve inşaat yönetmeliğine uygun, sağlam olarak yapılmalıdır.
- Tüm bireylere, "deprem, depremde alınacak önlemler ve ilk yardım" konularında gerekli olan bilgiler verilmeli, beceriler kazandırılmalıdır.
- İmar planında konuta ayrılmış yerler dışındaki yerlere, dik yerlerin yakınına, dik boğaz ve vadilerin içine, çok kar yağın ve çığ gelebilecek yamaçlara ev ve bina yapılmamalıdır.
- Mevcut binaların dayanıklılıkları arttırmalıdır.
- Sigorta sistemine dahil olunmalıdır.
- Ev satın alırken yukarıda belirtilen konular göz önünde bulundurulmalıdır.

Bu broşürdeki bilgilerden yola çıkıldığında;

- I. Bir ev alırken depreme dayanıklı olup olmadığı kontrol edilmelidir.
- II. Depremle ilgili insanlara eğitim verilmelidir.
- III. Evler düz ve alçak yerlere yapılmalıdır.

İfadelerinden hangilerine ulaşamaz?

- A) Yalnız I.                      B) Yalnız III.                      C) I ve II.                      D) I ve III.

1.

**BİLGİ:**

Genel ağ bağımlısı çocukların etrafı algılama ve yorumlamalarında ciddi problemleri olduğu bilinmektedir. Genel ağ bağımlısı çocukların yapmış oldukları resimlerin daha basit, derinliği olmayan, gelişi güzel karışık çizilen ve anlamsız çizimler olduğu görülmektedir. Bunun yanında genel ağ bağımlısı çocukların yaptığı resimler, yaşatlarının resimlerine göre daha alt seviyelerdedir.

Bu bilgi metninden yola çıkıldığında aşağıdaki resim örneklerinden hangisi internet bağımlısı bir çocuğa ait olabilir?

A)




B)



C)



D)



1.



Yeşil Başlı Gövel Ördek Türküsü

Yeşil başlı gövel ördek  
Uçar, gider göle karşı.  
Eğricesin tel tel etmiş  
Döker, gider yâre karşı.

Telli turnam sökün gelir,  
İnci mercan yükün gelir.  
Elvan elvan kokun gelir,  
Yâr oturmuş gele karşı.

Sahinim var bazlarım var.  
Tel alışkın sazlarım var.  
Yâre gizli sözlerim var,  
Diyemiyom ele karşı.

Hani Karac'öğlan hani,  
Veren alır tatlı canı.  
Yakışmazsa öldür beni,  
Yeşil bağla ala karşı.

Karacaoğlan

Aşağıdakilerden hangisi bu türküde altı çizili olarak verilen canlılardan biri değildir?

A)




B)



C)



D)





1.



BİLGİ:

Kurgu, tamamen veya kısmen gerçek olmayan; yazar veya sanatçının hayal gücünün eseri olan kişi, yer ve olaylar içeren eser ya da görsellerdir.

Buna göre aşağıdaki görsellerden hangisi kurgusal özellik taşımaktadır?

A)



B)



C)



D)



2.

I

Yağmurun hiç bitmeyeceğini düşündüm. Her yeri sel suları kaplamıştı, yolun sel suları tarafından yutulduğunu bile düşündüm. Cehennem gibiydi. Sabah güneşinin etkisiyle her yer parlamca çok güzel manzara oldu. Tam bu sırada sokaktan arkadaşlarımın okula gittiğini ve bana baktıklarını görünce okul zamanımın geldiğini anlamışım. Hemen okula gitmek için hazırlık yapmaya başladım.

II

Öğlen vakti yaylayı külrenge bir kör duman bastırverdi. Bir rüzgar çıktı. Ağaçlar uğulduyor, vadiden sanki eski çağların dinazor sürüleri koşuyordu. Duman bir koyulaşıyor, o zaman da bir metre ötesi görünmez oluyordu. Sonra hava açtı.

Aşağıdakilerden hangisi bu iki metnin ortak özelliğidir?

- A) Hikâye türünde yazılmışlardır.
- B) Hayvanlar konuşturulmuştur.
- C) İki kelime kullanılmıştır.
- D) Dilleri ağırdır.